

4


De vijandelijke verdediging uitschakelen




Je hebt in de vorige lessen al een aantal trucjes geleerd waarmee je slim kan verdedigen. De stukken die belangrijk zijn bij de verdediging noemen we verdedigers. In deze les leer je verdedigers herkennen. Door deze verdediger uit te schakelen valt de stelling van je tegenstander uit elkaar en kan je vaak op voorsprong komen.

Een truc die je hebt geleerd is om een gepend stuk nog een keer aan te vallen. Weet je dat nog? Zwart kan hier de pion van g7 naar g6 spelen.

De witspeler slaat de pion daarom niet met de Loper maar met de Toren. Dan hebben we de volgende stelling.




Wit heeft een tweevoudige aanval op pion h5




Stand na 1. Th1xh5

Het lijkt of wit de pion op h5 kan slaan, omdat deze pion twee keer is aangevallen. Zwart verdedigt de pion maar één keer, namelijk door de Toren. Wat gebeurt er als wit de pion met de Loper slaat? Zie je het gevaar voor wit? De Loper staat dan namelijk gepend. Dat is erg gevaarlijk voor wit. Als de Loper weggaat is de witte Toren op h1 aangevallen.

Maar dit is ook geen goede zet. De witte Toren is verdedigd door de Loper op f3. Deze Loper kan door zwart geslagen worden met de Toren van f8. Meestal is een Toren tegen een Loper ruilen niet zo slim, want een Loper is maar 3 punten waard en de Toren wel 5. Voor zwart zou dit een onvoordelige ruil zijn, namelijk een verlies van 2 punten. Maar... in dit geval is de Loper meer waard omdat hij een verdediger is. Kijk maar:



Stand na 1. Lf3xh5




Zwart speelt 2. ...,Th6xh5

Omdat wit schaak staat nadat zwart met de Toren op f3 slaat, slaat wit de Toren terug bijvoorbeeld met de pion van g2. De witte Toren op h5 is nu onverdedigd.


Zwart kan deze Toren slaan. Zwart staat nu 2 punten voor in plaats van achter. Zie je dat? Zwart heeft een Loper tegen een pion. Is dit een goede truc of niet?

In deze stelling was de Loper op f3 de verdediger.


Zie je de verdediger in de volgende stellingen? Bedenk een plan om de verdediger uit te schakelen.




Oefening 1: Wit aan zet. Schakel een verdediger uit.



Oefening 2: Wit aan zet. Schakel een verdediger uit.



Oefening 3: Wit aan zet. Schakel een verdediger uit



Oefening 4: Wit aan zet. Schakel een verdediger uit

Oefening 3 en 4 waren best moeilijk. Heb je ze gevonden? Je kan dus ook een verdediger uitschakelen door de verdediger weg te jagen of weg te lokken.

Oplossingen

Oefening 1: Pc5 verdedigt Le4. Wit speelt La3xc5.

Oefening 2: Lg6 verdedigt Td3. Wit speelt Tg1xg6.

Oefening 3: De5 verdedigt Th5. Wit speelt Tf1-e1.

De5 is nu aangevallen. Zwart kan de Th5 niet meer verdedigen met De5.

Oefening 4: Kf5 is de verdediger van e6 en Dg4. Na 1. Dh4xg4, Kf5xg5 kan wit een pion winnen met 2.

Lb3xe6+. Beter is echter om eerst 1. Lb3xe6+, Kf5xe6 te spelen. Want nu wint wit de Dame op g4.